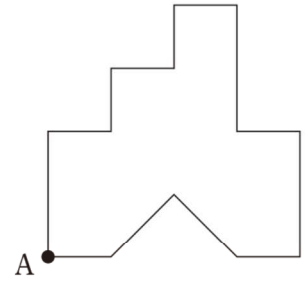
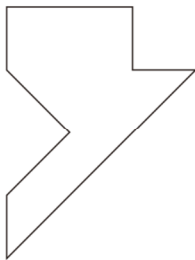


【例題－警察官 A 9】

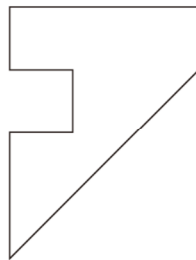
1 辺が 4 cm の正方形の紙から、1 辺が 1 cm の正方形を五つと斜辺が 2 cm の直角二等辺三角形を一つ取り取ったところ、右図のようになった。この紙を、頂点 A を通る元の正方形の対角線の位置で折ったとき、できる図形の輪郭として妥当なのはどれか。



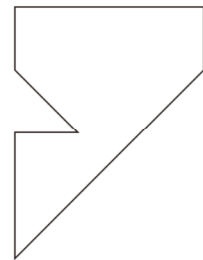
1.



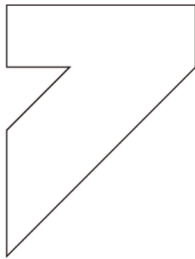
2.



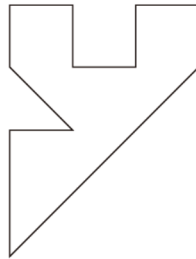
3.



4.



5.



(正答) 3