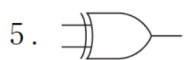
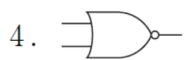
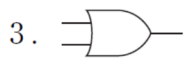
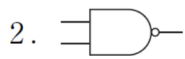
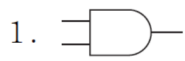
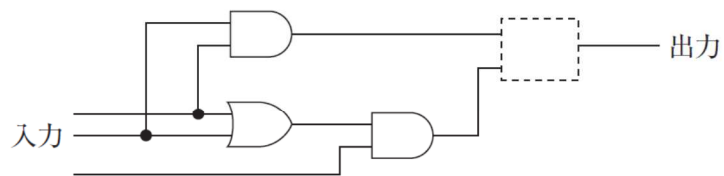


【例題－電気6】

3入力多数決回路とは、三つの入力のうち二つ以上が「1」であれば「1」を出力し、二つ以上が「0」であれば「0」を出力する回路である。図はこの回路を示しているが、点線枠の四角に当てはまるものとして正しいのはどれか。



(正答) 3